

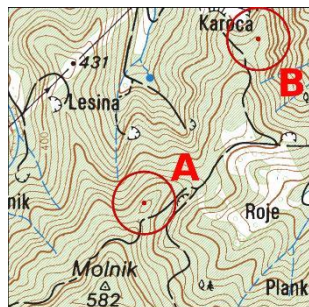
TOPO TEST

RR/G moški test 1

št. ekipe: _____

ime ekipe: _____

ime: _____



1. Absolutna višina točke A: _____, točke B: _____,
relativna višina med točko A in B: _____.

2. Kaj je lovilna točka?

3. Naštej 3 vrste projekcij glede na vrste napak!

4. Poimenuj topografske znake:

5. Nariši topografske znake:

Spominsko pokopališče	Mlin na veter	čer	terase	drevored



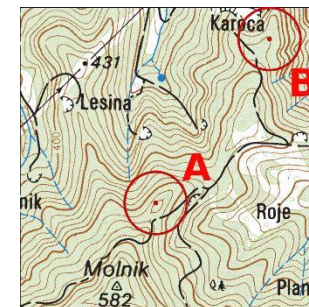
TOPO TEST

RR/G moški test 1

št. ekipe: _____

ime ekipe: _____

ime: _____



1. Absolutna višina točke A: _____, točke B: _____,
relativna višina med točko A in B: _____.


2. Kaj je lovilna točka?

3. Naštej 3 vrste projekcij glede na vrste napak!

4. Poimenuj topografske znake:

5. Nariši topografske znake:

Spominsko pokopališče	Mlin na veter	čer	terase	drevored



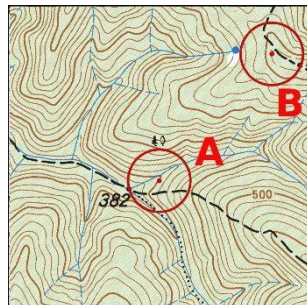
TOPO TEST

RR/G moški test 2

št. ekipe: _____

ime ekipe: _____

ime: _____



1. Absolutna višina točke A: _____, točke B: _____,
relativna višina med točko A in B: _____.

2. Kaj je napadna točka?

3. V kateri meridianski coni se nahaja območje Slovenije glede na Gauss-Krügerjevo projekcijo?

4. Poimenuj topografske znake:

5. Nariši topografske znake:

Elektrificirana želež. proga	Kanal v useku	Stan, koliba, planina	Stolp za ostale namene	brv



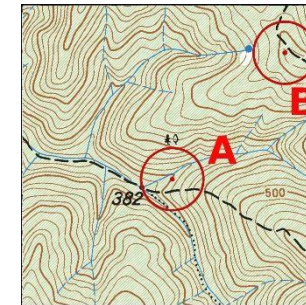
TOPO TEST

RR/G moški test 2

št. ekipe: _____

ime ekipe: _____

ime: _____



1. Absolutna višina točke A: _____, točke B: _____,
relativna višina med točko A in B: _____.

2. Kaj je napadna točka?

3. V kateri meridianski coni se nahaja območje Slovenije glede na Gauss-Krügerjevo projekcijo?

4. Poimenuj topografske znake:

5. Nariši topografske znake:

Elektrificirana želež. proga	Kanal v useku	Stan, koliba, planina	Stolp za ostale namene	brv



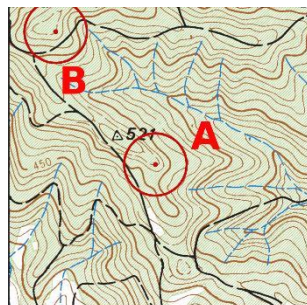
TOPO TEST

RR/G moški test 3

št. ekipe: _____

ime ekipe: _____

ime: _____



1. Absolutna višina točke A: _____, točke B: _____, relativna višina med točko A in B: _____.
2. Kaj so izobare, izoterme in izobate?

3. Kakšne so lastnosti konformnih kartografskih projekcij?

4. Poimenuj topografske znake:

5. Nariši topografske znake:

vinograd	Železniška proga v gradnji	Strm odsek	Odlagališče odpadnega materiala	ponikalnica



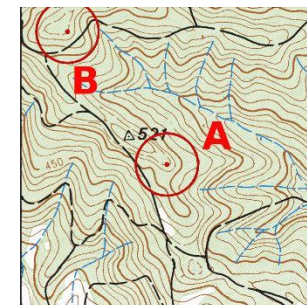
TOPO TEST

RR/G moški test 3

št. ekipe: _____

ime ekipe: _____

ime: _____



1. Absolutna višina točke A: _____, točke B: _____, relativna višina med točko A in B: _____.
3. Kaj so izobare, izoterme in izobate?

3. Kakšne so lastnosti konformnih kartografskih projekcij?

4. Poimenuj topografske znake:

5. Nariši topografske znake:

vinograd	Železniška proga v gradnji	Strm odsek	Odlagališče odpadnega materiala	ponikalnica



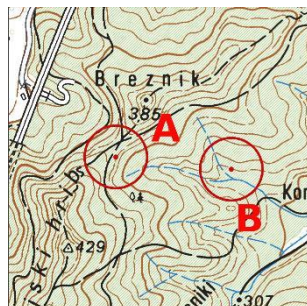
TOPO TEST

RR/G moški test 4

št. ekipe: _____

ime ekipe: _____

ime: _____



1. Absolutna višina točke A: _____, točke B: _____,
relativna višina med točko A in B: _____.

2. Naštej 3 informacije, ki jih na terenu ne zasledimo, a nam jih nudi karta?

3. Kako definiramo 1 tisočin?

4. Poimenuj topografske znake:

5. Nariši topografske znake:

Mlin na veter	spomenik	Poudarjena plastnica	Nivelmanska točka	Vrtina za črpanje nafte brez stolpa



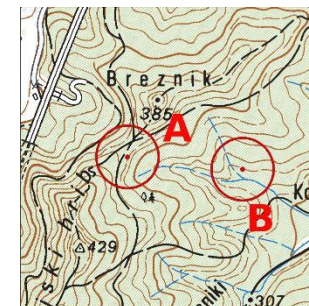
TOPO TEST

RR/G moški test 4

št. ekipe: _____

ime ekipe: _____

ime: _____



1. Absolutna višina točke A: _____, točke B: _____,
relativna višina med točko A in B: _____.

2. Naštej 3 informacije, ki jih na terenu ne zasledimo, a nam jih nudi karta?

3. Kako definiramo 1 tisočin?

4. Poimenuj topografske znake:

5. Nariši topografske znake:

Mlin na veter	spomenik	Poudarjena plastnica	Nivelmanska točka	Vrtina za črpanje nafte brez stolpa



TOPO TEST

RR/G moški test 5

št. ekipe: _____

ime ekipe: _____

ime: _____



1. Absolutna višina točke A: _____, točke B: _____, relativna višina med točko A in B: _____.

2. Kaj so topografski znaki?

3. Poimenuj kote med severi:

projekcijski – magnetni: _____

projekcijski – geografski: _____

magnetni – geografski: _____

4. Poimenuj topografske znake:

5. Nariši topografske znake:

Knal s širino nad 10m	Trigonometrič na točka	Manjša jama brezno	Antenski stolp	Samostan



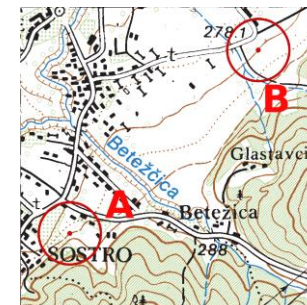
TOPO TEST

RR/G moški test 5

št. ekipe: _____

ime ekipe: _____

ime: _____



1. Absolutna višina točke A: _____, točke B: _____, relativna višina med točko A in B: _____.

2. Kaj so topografski znaki?

3. Poimenuj kote med severi:

projekcijski – magnetni: _____

projekcijski – geografski: _____

magnetni – geografski: _____

4. Poimenuj topografske znake:

5. Nariši topografske znake:

Knal s širino nad 10m	Trigonometrič na točka	Manjša jama brezno	Antenski stolp	Samostan

