



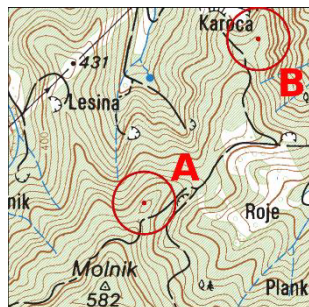
# TOPO TEST

RR/G ženske test 1

št. ekipe: \_\_\_\_\_

ime ekipe: \_\_\_\_\_

ime: \_\_\_\_\_



1. Absolutna višina točke A: \_\_\_\_\_, točke B: \_\_\_\_\_, relativna višina med točko A in B: \_\_\_\_\_.
2. Kaj je naklon in kaj nagib terena?

3. Kaj je profilna črta?

4. Poimenuj topografske znake:


5. Nariši topografske znake:

Plavajoč mlin	Hitra cesta	Brod za prevoz vozil	Slap na večji reki	Spominska plošča



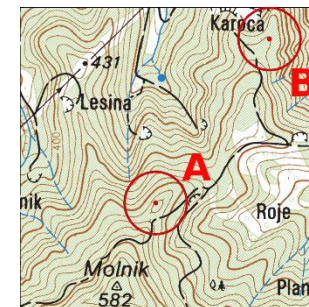
# TOPO TEST

RR/G ženske test 1

št. ekipe: \_\_\_\_\_

ime ekipe: \_\_\_\_\_

ime: \_\_\_\_\_



1. Absolutna višina točke A: \_\_\_\_\_, točke B: \_\_\_\_\_, relativna višina med točko A in B: \_\_\_\_\_.
2. Kaj je naklon in kaj nagib terena?

3. Kaj je profilna črta?

4. Poimenuj topografske znake:


5. Nariši topografske znake:

Plavajoč mlin	Hitra cesta	Brod za prevoz vozil	Slap na večji reki	Spominska plošča



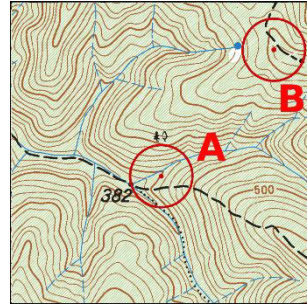
# TOPO TEST

RR/G ženske test 2

št. ekipe: \_\_\_\_\_

ime ekipe: \_\_\_\_\_

ime: \_\_\_\_\_



1. Absolutna višina točke A: \_\_\_\_\_, točke B: \_\_\_\_\_, relativna višina med točko A in B: \_\_\_\_\_.
2. Kaj je reambulacija?

3. Kaj so komunikacije?

4. Poimenuj topografske znake:


5. Nariši topografske znake:

Elektrificirana želez. proga	jezero	Trdnjava	Spominsko pokopališče	Tramvajska proga



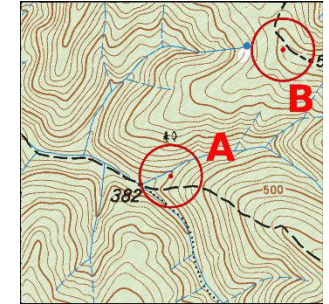
# TOPO TEST

RR/G ženske test 2

št. ekipe: \_\_\_\_\_

ime ekipe: \_\_\_\_\_

ime: \_\_\_\_\_



1. Absolutna višina točke A: \_\_\_\_\_, točke B: \_\_\_\_\_, relativna višina med točko A in B: \_\_\_\_\_.
2. Kaj je reambulacija?

3. Kaj so komunikacije?

4. Poimenuj topografske znake:

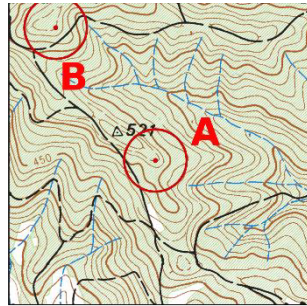

5. Nariši topografske znake:

Elektrificirana želez. proga	jezero	Trdnjava	Spominsko pokopališče	Tramvajska proga



# TOPO TEST

RR/G ženske test 3



št. ekipe: \_\_\_\_\_

ime ekipe: \_\_\_\_\_

ime: \_\_\_\_\_

1. Absolutna višina točke A: \_\_\_\_\_, točke B: \_\_\_\_\_, relativna višina med točko A in B: \_\_\_\_\_.
2. Kaj je energija karte?

3. Kaj je seksagezimalna razdelba?

4. Poimenuj topografske znake:

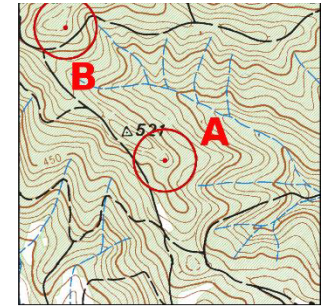

5. Nariši topografske znake:

bolnišnica	Opekarna brez dimnika	žaga	Razgledni stolp	mlin



# TOPO TEST

RR/G ženske test 3



št. ekipe: \_\_\_\_\_

ime ekipe: \_\_\_\_\_

ime: \_\_\_\_\_

1. Absolutna višina točke A: \_\_\_\_\_, točke B: \_\_\_\_\_, relativna višina med točko A in B: \_\_\_\_\_.
2. Kaj je energija karte?

3. Kaj je seksagezimalna razdelba?

4. Poimenuj topografske znake:

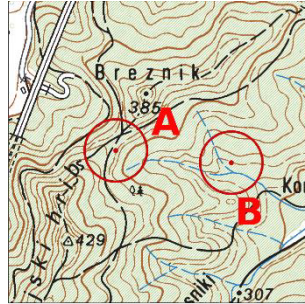

5. Nariši topografske znake:

bolnišnica	Opekarna brez dimnika	žaga	Razgledni stolp	mlin



# TOPO TEST

RR/G ženske test 4



št. ekipe: \_\_\_\_\_

ime ekipe: \_\_\_\_\_

ime: \_\_\_\_\_

1. Absolutna višina točke A: \_\_\_\_\_, točke B: \_\_\_\_\_, relativna višina med točko A in B: \_\_\_\_\_.
2. Kaj je magnetna deviacija?

3. Kaj je nivelmanska točka?

4. Poimenuj topografske znake:

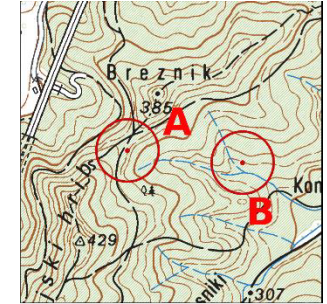

5. Nariši topografske znake:

Stebrič v vodi	privez	hmeljišče	Žična ograja	terase



# TOPO TEST

RR/G ženske test 4



št. ekipe: \_\_\_\_\_

ime ekipe: \_\_\_\_\_

ime: \_\_\_\_\_

1. Absolutna višina točke A: \_\_\_\_\_, točke B: \_\_\_\_\_, relativna višina med točko A in B: \_\_\_\_\_.
2. Kaj je magnetna deviacija?

3. Kaj je nivelmanska točka?

4. Poimenuj topografske znake:

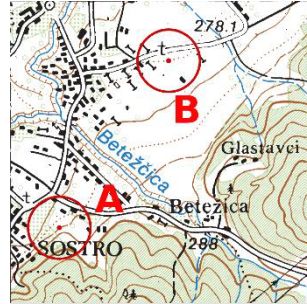

5. Nariši topografske znake:

Stebrič v vodi	privez	hmeljišče	Žična ograja	terase



# TOPO TEST

RR/G ženske test 5



št. ekipe: \_\_\_\_\_

ime ekipe: \_\_\_\_\_

ime: \_\_\_\_\_

1. Absolutna višina točke A: \_\_\_\_\_, točke B: \_\_\_\_\_,  
relativna višina med točko A in B: \_\_\_\_\_.

2. Kaj je absolutna in kaj relativna višinska razlika?

3. Poimenuj kote med severi:

projekcijski – magnetni: \_\_\_\_\_

projekcijski – geografski: \_\_\_\_\_

magnetni – geografski: \_\_\_\_\_

4. Poimenuj topografske znake:


5. Nariši topografske znake:

Večji nasip	Vodni bazen	Državna meja	Zidana ali kamnita ograja	Plantažni vinograd



# TOPO TEST

RR/G ženske test 5



št. ekipe: \_\_\_\_\_

ime ekipe: \_\_\_\_\_

ime: \_\_\_\_\_

1. Absolutna višina točke A: \_\_\_\_\_, točke B: \_\_\_\_\_,  
relativna višina med točko A in B: \_\_\_\_\_.

2. Kaj je absolutna in kaj relativna višinska razlika?

3. Poimenuj kote med severi:

projekcijski – magnetni: \_\_\_\_\_

projekcijski – geografski: \_\_\_\_\_

magnetni – geografski: \_\_\_\_\_

4. Poimenuj topografske znake:


5. Nariši topografske znake:

Večji nasip	Vodni bazen	Državna meja	Zidana ali kamnita ograja	Plantažni vinograd