

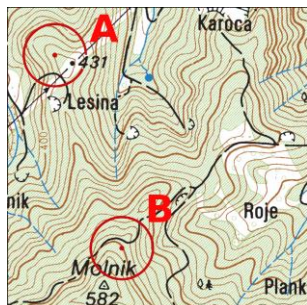
TOPO TEST

PP ženske test 1

št. ekipe: _____

ime ekipe: _____

ime: _____



1. Absolutna višina točke A: _____, točke B: _____,
relativna višina med točko A in B: _____.

2. Za koliko stopinj se premakne Sonce v eni uri?

3. Kaj je lovilna točka?

4. Poimenuj topografske znake:

5. Nariši topografske znake:

kanal s širino od 5 do 10m	meteorološka postaja	čer	posamezno drevo	šola



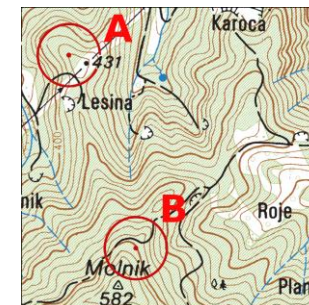
TOPO TEST

PP ženske test 1

št. ekipe: _____

ime ekipe: _____

ime: _____



1. Absolutna višina točke A: _____, točke B: _____,
relativna višina med točko A in B: _____.

2. Za koliko stopinj se premakne Sonce v eni uri?

3. Kaj je lovilna točka?

4. Poimenuj topografske znake:

5. Nariši topografske znake:

kanal s širino od 5 do 10m	meteorološka postaja	čer	posamezno drevo	šola



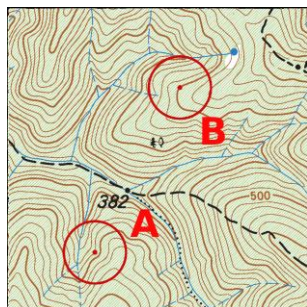
TOPO TEST

PP ženske test 2

št. ekipe: _____

ime ekipe: _____

ime: _____



1. Absolutna višina točke A: _____, točke B: _____,
relativna višina med točko A in B: _____.

2. Kaj je ekvidistanca in kaj je interval?

3. Kaj je naklon in kaj nagib terena?

4. Poimenuj topografske znake:

5. Nariši topografske znake:

zgradba	ponikalnica	silos	cisterna s stalno pitno vodo	zidana ograja



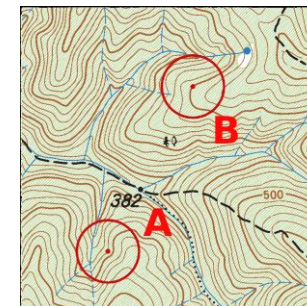
TOPO TEST

PP ženske test 2

št. ekipe: _____

ime ekipe: _____

ime: _____



1. Absolutna višina točke A: _____, točke B: _____,
relativna višina med točko A in B: _____.


2. Kaj je ekvidistanca in kaj je interval?

3. Kaj je naklon in kaj nagib terena?

4. Poimenuj topografske znake:

5. Nariši topografske znake:

zgradba	ponikalnica	silos	cisterna s stalno pitno vodo	zidana ograja



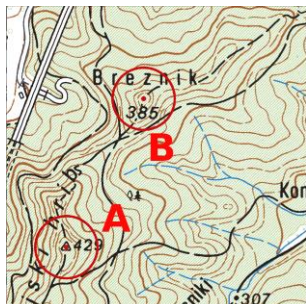
TOPO TEST

PP ženske test 3

št. ekipe: _____

ime ekipe: _____

ime: _____



1. Absolutna višina točke A: _____, točke B: _____, relativna višina med točko A in B: _____.
2. Kaj je reambulacija karte?

3. Naštej 3 informacije, ki jih na terenu ne zasledimo, a nam jih nudi karta!

4. Poimenuj topografske znake:

5. Nariši topografske znake:

nadstrešnica, baraka	ponikalnica	brod za prevoz vozil	mejna tabla	plinarna



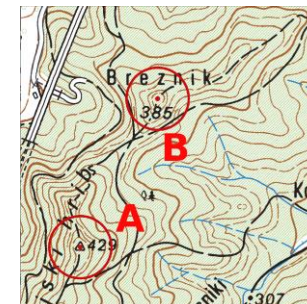
TOPO TEST

PP ženske test 3

št. ekipe: _____

ime ekipe: _____

ime: _____



1. Absolutna višina točke A: _____, točke B: _____, relativna višina med točko A in B: _____.
2. Kaj je reambulacija karte?

3. Naštej 3 informacije, ki jih na terenu ne zasledimo, a nam jih nudi karta!

4. Poimenuj topografske znake:

5. Nariši topografske znake:

nadstrešnica, baraka	ponikalnica	brod za prevoz vozil	mejna tabla	plinarna



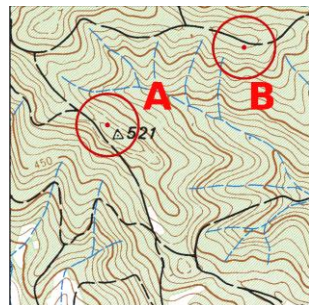
TOPO TEST

PP ženske test 4

št. ekipe: _____

ime ekipe: _____

ime: _____



1. Absolutna višina točke A: _____, točke B: _____, relativna višina med točko A in B: _____.
2. Naštej 3 vrste severov in opiši kam kažejo.

3. Kaj je napadna točka?

4. Poimenuj topografske znake:

5. Nariši topografske znake:

terase	silos	črpalka	pomol	letališče



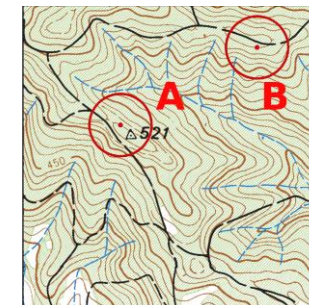
TOPO TEST

PP ženske test 4

št. ekipe: _____

ime ekipe: _____

ime: _____



1. Absolutna višina točke A: _____, točke B: _____, relativna višina med točko A in B: _____.
2. Naštej 3 vrste severov in opiši kam kažejo.

3. Kaj je napadna točka?

4. Poimenuj topografske znake:

5. Nariši topografske znake:

terase	silos	črpalka	pomol	letališče



TOPO TEST

PP ženske test 5

št. ekipe: _____

ime ekipe: _____

ime: _____



1. Absolutna višina točke A: _____, točke B: _____,

relativna višina med točko A in B: _____.

2. Kaj je energija karte?

3. Kaj je magnetna deviacija?

4. Poimenuj topografske znake:

5. Nariši topografske znake:

skupina dreves	vrtača	reka s širino nad 10m	suhi rov	opuščen rudnik



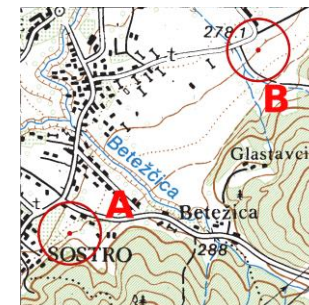
TOPO TEST

PP ženske test 5

št. ekipe: _____

ime ekipe: _____

ime: _____



1. Absolutna višina točke A: _____, točke B: _____,

relativna višina med točko A in B: _____.

2. Kaj je energija karte?

3. Kaj je magnetna deviacija?

4. Poimenuj topografske znake:

5. Nariši topografske znake:

skupina dreves	vrtača	reka s širino nad 10m	suhi rov	opuščen rudnik